

ÉTABLISSEMENT :

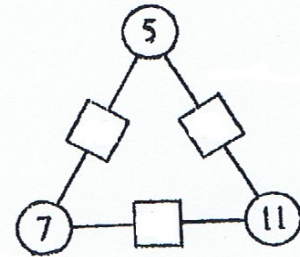
CLASSE :

VILLE DE L'ÉTABLISSEMENT :

Unique règle du jeu : le nombre dans le carré est la somme des deux nombres dans les cercles de chaque côté.

Question 1 : compléter la figure 1.

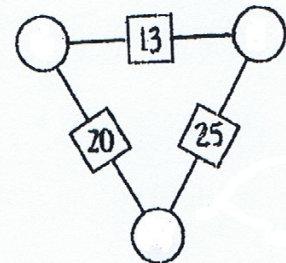
Figure 1



Question 2 : compléter inversement la figure 2.

C'est plus difficile : on peut tâtonner, mettre un nombre dans un cercle puis essayer de compléter.
 Ou trouver une méthode.

Figure 2



Question 3 : essayer de compléter les figures 3 et 4.

C'est impossible avec des nombres entiers positifs : pour la figure 3, il faut un nombre entier négatif et pour la figure 4, il faut des nombres décimaux.

Figure 3

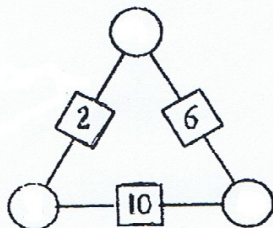


figure 4

