









## QUELLE QUANTITE DE CHOCOLAT ? ★


Bravo, vous avez trouvé l'ingrédient mystère hier. Il s'agissait du chocolat mais je ne sais pas quelle quantité est nécessaire pour réaliser mon gâteau : - (

Résolvez ces cryptocalculs pour connaître la masse de chocolat qui a été masquée dans la recette !

	3		
+			4
	6		6

	8		
-	6	9	
	1	8	0

	1	
x	3	4
	6	0
+	4	
		10


















\*






## QUELLE QUANTITE DE CHOCOLAT ? ★★

Bravo, vous avez trouvé l'ingrédient mystère hier. Il s'agissait du chocolat mais je ne sais pas quelle quantité est nécessaire pour réaliser mon gâteau : - (

Résolvez ces cryptocalculs pour connaître la masse de chocolat qui a été masquée dans la recette !






					,		
-	6	8		,			
<hr style="border: 1px solid black;"/>							
			4,				




			9	1
x			,	4
<hr style="border: 1px solid black;"/>				
	3	1	6	4
		3		0
<hr style="border: 1px solid black;"/>				
	8		3,	4




	3	1		6
-	3	0		 
		1		
-		1		
			0	




			
			g

QUELLE QUANTITE DE CHOCOLAT ? ★  
**(CORRECTION)**

	3		
+			4
<hr/>			
	6		6









	8		
-	6	9	
<hr/>			
	1	8	0








		1	
x		3	4
<hr/>			
		6	0
+	4		0
<hr/>			
		1	0






			
<b>2</b>	<b>7</b>	<b>5</b>	g




# QUELLE QUANTITE DE CHOCOLAT ? ★ ★

**(CORRECTION)**

				,	
-	6	8		,	
			4	,	

			9	1	
x			,	4	
	3	1	6	4	
		3		0	
	8		3	,	4

	3	1		6
-	3	0		 
		1		
-		1		
			0	

			
2	7	5	g