

# Dissertation de spécialité SES

L'usage de la calculatrice est strictement interdit.

Portables éteints, rangés dans vos sacs, et sacs déposés devant le tableau.

Il est demandé au candidat :

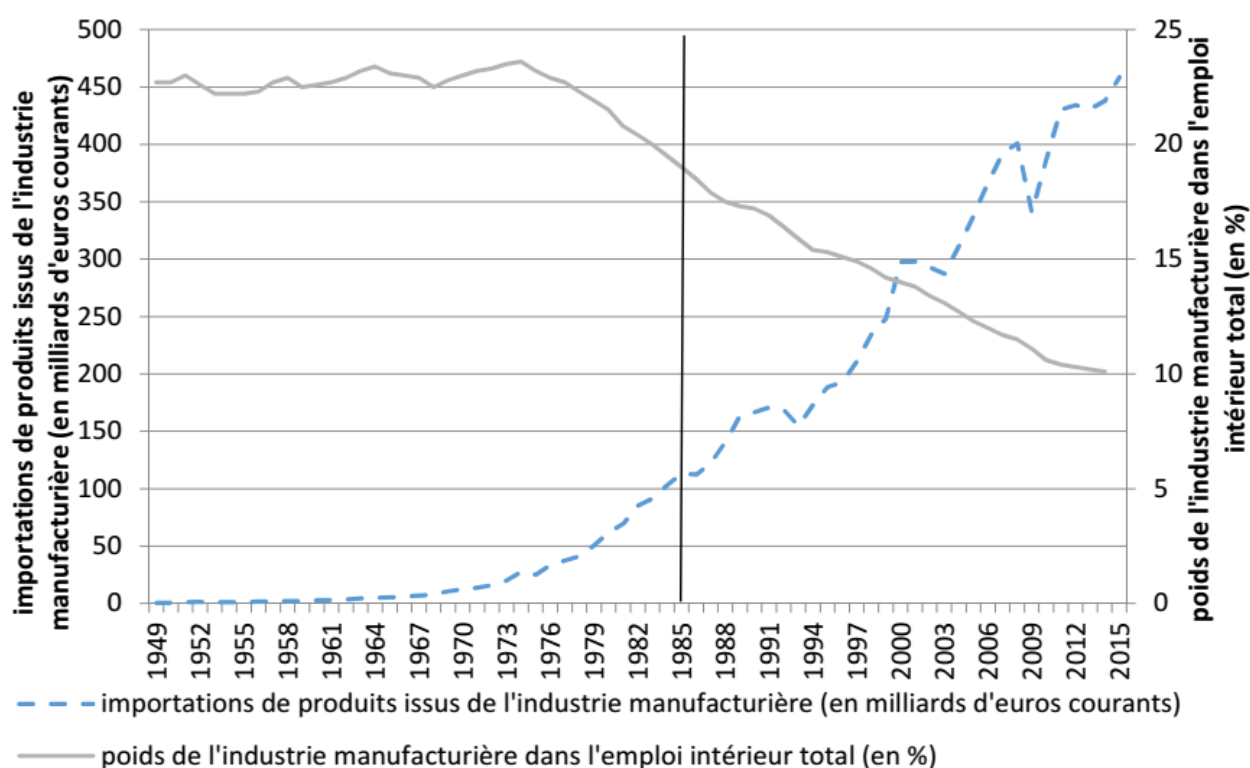
- de répondre à la question posée par le sujet ;
- de construire une argumentation à partir d'une problématique qu'il devra élaborer ;
- de mobiliser des connaissances et des informations pertinentes pour traiter le sujet, notamment celles figurant dans le dossier ;
- de rédiger, en utilisant le vocabulaire économique et social spécifique et approprié à la question, en organisant le développement sous la forme d'un plan cohérent qui ménage l'équilibre des parties.

Il sera tenu compte, dans la notation, de la clarté de l'expression et du soin apporté à la présentation.

## Sujet : Le protectionnisme est-il préférable au libre-échange ?

Ce sujet comporte quatre documents.

### DPCUMENT 1 : Poids de l'industrie manufacturière<sup>(1)</sup> dans l'emploi intérieur total<sup>(2)</sup> (en %) et importations de produits de l'industrie manufacturière (en milliards d'euros courants) en France



Source : D'après INSEE, 2016.

Lecture : Selon l'INSEE, en France, en 1985, les importations de produits issus de l'industrie manufacturière s'élèvent à environ 110 milliards d'euros courants et les emplois dans l'industrie manufacturière représentent 19 % de l'emploi intérieur total.

(1) Les industries manufacturières sont des industries de transformation des biens : industries alimentaires, fabrication de textiles, industrie pharmaceutique, fabrication de machines et équipements, industrie automobile, etc.

(2) Emploi intérieur total, salariés et non-salariés, en nombre d'équivalents temps plein.

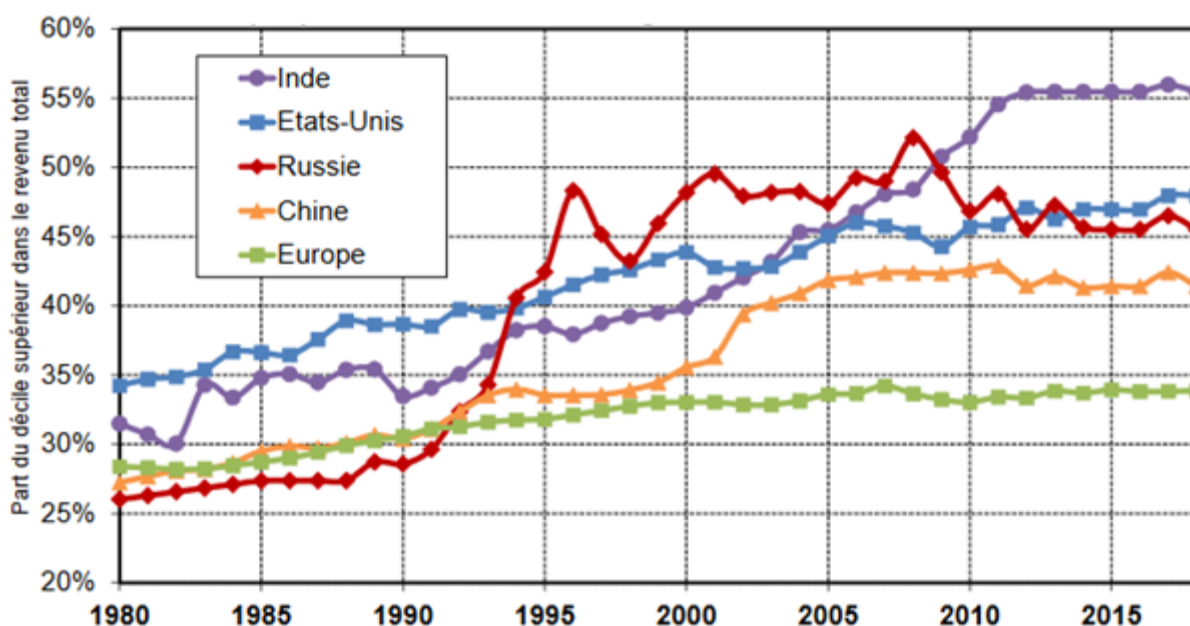
**DOCUMENT 2 : Évolution du PIB par habitant pour quelques pays entre 1980 et 2018 (en indices, base 100 = monde)**

	1980	1985	1990	1995	2000	2005	2010	2015	2018
France	231	235	252	261	269	255	234	215	206
Japon	194	221	256	267	247	235	215	205	198
Corée du Sud	63	83	114	156	172	184	193	188	n.r.
Chine	14	23	22	29	32	43	63	82	99
Brésil	147	133	121	126	114	106	109	95	83
Monde	100	100	100	100	100	100	100	100	100

n.r. : non renseigné

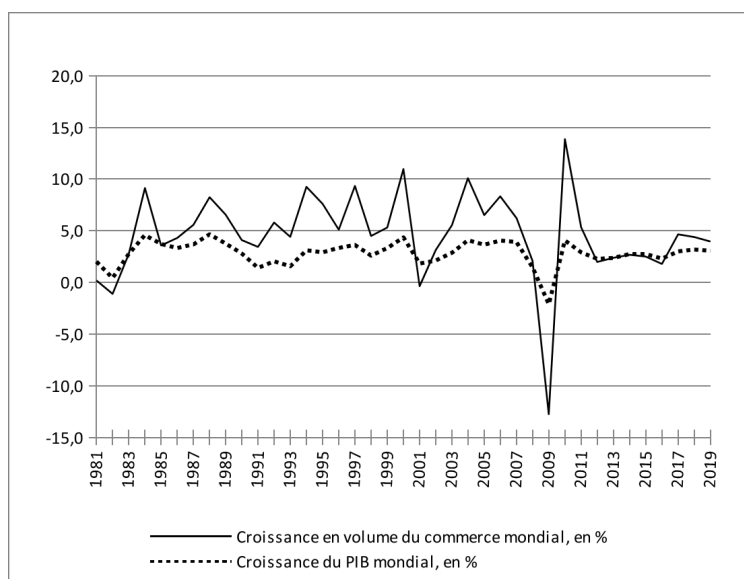
Source : WID.world (Base de données mondiale sur les inégalités), mars 2020.

**DOCUMENT 3 : Évolution de la part du décile supérieur (les 10% des revenus les plus élevés) dans le revenu national de quelques puissances économiques (1980-2018)**



Source : <http://piketty.pse.ens.fr/files/ideologie/pdf/G0.3.pdf>

**DOCUMENT 4 : Croissance du commerce mondial des marchandises en volume et croissance du PIB réel mondial, 1981-2019**



Note : prévisions pour 2018 et 2019.

Source : OMC, 2018